


# Køb is

LÆS

Ida og Bob skal købe is.  
Ida vil købe den røde is.  
Bob vil købe den blå is.



Hvor meget koster begge is?

$$\begin{array}{c} \square \\ \text{red} \end{array} + \begin{array}{c} \square \\ \text{blue} \end{array} = \square \text{ kroner}$$

LÆS

Bob betaler med 10 kr.

Hvor mange kr. skal han have tilbage?

$$\square - \square = \square$$



# Festen

LÆS

Iben skal holde fest. Der kommer 2 drenge og 7 piger til festen.



Hvor mange gæster kommer der i alt?

$$\begin{array}{c} \square \\ \text{boy} \end{array} + \begin{array}{c} \square \\ \text{girl} \end{array} = \square \text{ gæster i alt}$$

LÆS

Iben har 5 sjove hatte. Hvor mange får IKKE en hat på?



$$\square - \square = \square$$




# Fodboldkampen

LÆS

Bo skal spille fodboldkamp.



Bos hold laver 6 mål.

Modstanderne laver 4 mål.



Hvor mange mål bliver der lavet i alt?

$$\square + \square = \square$$

  mål i alt

LÆS

Der er 10 spillere på banen.

2 af dem får rødt kort og

må gå ud.



Hvor mange spillere er der tilbage på banen?

$$\square - \square = \square$$



# Annas tænder

LÆS

Anna har tabt 6 tænder i

år. Sidste år tabte hun 2

tænder.



Hvor mange tænder har hun tabt i alt?

$$\square + \square = \square$$

tænder

LÆS

Anna har sine tænder i en

æske, men hun har fået 3

tænder væk.

Hvor mange tænder har hun i æsken?

$$\square - \square = \square$$

# Stranden

LÆS

Lise og Julie er på stranden

Lise har fundet 4 sten.


Julie har fundet 5 sten.



Tegn stenene i hånden



Lises sten



Julies sten

Hvor mange sten har de tilsammen?

$$\square + \square = \square$$

Lise

Julie

sten i alt

LÆS

Lise taber 2 sten.

Hvor mange sten har de så nu?

$$\square - \square = \square$$


# Bondegården

LÆS

Karl har en bondegård. På

bondegården har han 3

heste og 4 geder.



Hvor mange dyr har han i alt?

$$\square + \square = \square$$



dyr i alt

LÆS

2 af Karls heste løber væk.

Hvor mange dyr har han så tilbage?

$$\square - \square = \square$$




# Jans hunde

LÆS

Jan har 9 hvide hunde.  
4 af hundene har en stor  
plet på ryggen.

Tegn pletter på 4 hunde



Hvor mange hunde har  
ikke pletter på?

$$\square - \square = \square$$

hunde uden  
pletter

LÆS

En af hundene får 1 hvalp  
Hvor mange hunde har  
han så?

$$\square + \square = \square$$

# Emilys fisk


LÆS

Emily har et akvarie.  
Der er 3 store fisk og der er  
2 små fisk.

Tegn fiskene i akvariet



Hvor mange fisk har hun i  
alt?

$$\square + \square = \square$$


fisk i alt

LÆS

Hun har også 4 krabber

Hvor mange dyr har hun i  
alt? 


$$\square + \square = \square$$

# Kagerne

LÆS

Ellens mor har bagt 8 kager. Ellen spiser 2 af dem mens de er varme.

Sæt kryds over de kager der bliver spist



Hvor mange kager er der tilbage?

$$\square - \square = \square$$

kager tilbage

LÆS

Ellens far spiser 3 kager.

Hvor mange kager er der tilbage til moren?

$$\square - \square = \square$$


# Halloween

LÆS

Jon samler slik til halloween. Han får 10 karameller. 7 af dem har striber på.



Tegn striber på dem, der har



Hvor mange karameller har ikke striber?

$$\square - \square = \square$$

karameller

LÆS

Jon spiser 5 karameller

Hvor mange karameller er der tilbage?


$$\square - \square = \square$$

# Grisene

LÆS

Hans har 8 store grise på sin gård. En dag løber 7 af grisene væk.

Sæt kryds over de grise, der er løbet væk



Hvor mange grise har Hans tilbage?

$$\square - \square = \square$$

LÆS

Hans fanger 5 af grisene igen.

Hvor mange grise har Hans nu?


$$\square + \square = \square$$



# Safari

LÆS

Liva er på safari med sin mor og far. Hun ser 7 giraffer og 2 zebraer.




Hvor mange dyr er der i alt?

$$\square + \square = \square$$

LÆS

3 af girafferne løber væk.

Sæt kryds over de giraffer, der er løbet væk




Hvor mange giraffer er der tilbage

$$\square - \square = \square$$

# Køb mad



LÆS

Isak skal købe mad.  
Han køber 1 stykke pizza og  
1 æble.



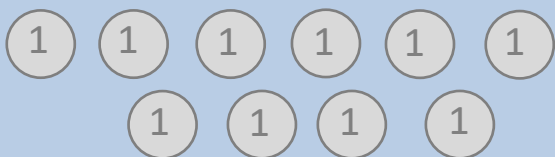
Hvor meget koster det?

$$\square + \square = \square$$

  kroner

LÆS

Isak betaler med 10 kr.



Hvor meget skal han have tilbage?

$$\square - \square = \square$$

# Kjolerne



LÆS

Emma har mange kjoler.  
Hun har 4 blå kjoler og 5  
røde kjoler.



Hvor mange kjoler har  
hun i alt?

$$\square + \square = \square$$

  kjoler

LÆS

3 af kjolerne er blevet for  
små.

Hvor mange kjoler kan  
hun passe?

$$\square - \square = \square$$



1

2

3

4

5

6

7

8


9

10

# Mine

*små*

regne-  
historier



Navn:

Klasse: