

JULEMATEMATIK

Forskellige opgaver med tallene mellem 0-24



© opgaveskyen.dk

Navn:

Klasse:



PLUS

Regn plusstykket ud og sæt en streg til det rigtige sted på kalenderlyset.

$$3 + 3$$

$$9 + 2$$

$$4 + 6$$

$$15 + 3$$

$$7 + 7$$

$$11 + 8$$

$$10 + 10$$

$$5 + 3$$

$$4 + 5$$

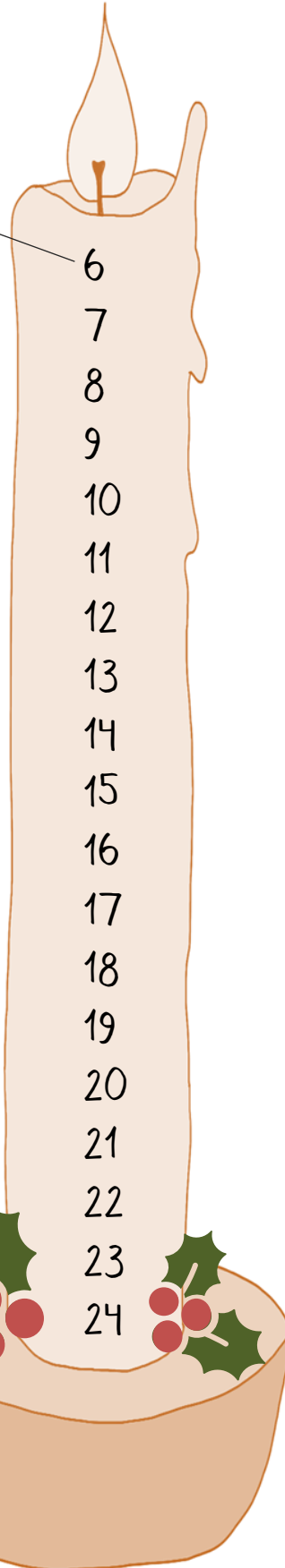
$$6 + 1$$

$$7 + 6$$

$$13 + 9$$

$$12 + 9$$

$$13 + 11$$




- 6
- 7
- 8
- 9
- 10
- 11
- 12
- 13
- 14
- 15
- 16
- 17
- 18
- 19
- 20
- 21
- 22
- 23
- 24



MINUS

Løs regnestykkerne

$3 - 2$



=

$9 - 5$



=

$6 - 1$



=

$15 - 3$



=

$8 - 6$



=

$13 - 6$



=

$6 - 3$



=

$11 - 2$



=

$6 - 0$




=

$7 - 5$



=



PLUS

Løs regnestykkerne

								
1	2	3	4	5	6	7	8	9

$$\text{Holly} + \text{Stocking} = \text{Gift}$$

$$\text{Stocking} + \text{Gingerbread} = \text{Gift}$$

$$\text{Gift} + \text{Gingerbread} = \text{Gift}$$

$$\text{Holly} + \text{Bells} = \text{Gift}$$

$$\text{Stocking} + \text{Ice Skating Rink} = \text{Gift}$$

$$\text{Gingerbread} + \text{Ice Skate} = \text{Gift}$$

$$\text{Ice Skating Rink} + \text{Christmas Tree} = \text{Gift}$$

$$\text{Snowman} + \text{Stocking} = \text{Gift}$$

$$\text{Bells} + \text{Snowman} = \text{Gift}$$

$$\text{Ice Skate} + \text{Ice Skating Rink} = \text{Gift}$$


$$\text{Holly} + \text{Christmas Tree} = \text{Gift}$$


$$\text{Christmas Tree} + \text{Christmas Tree} = \text{Gift}$$





PLUS OG MINUS



Farv juletræet med de farver, der passer til resultatet.





$5 =$ 


$6 =$ 

$8 =$ 

 $10 =$ 



$7 =$ 

$9 =$ 



SPEJLING

Spejlvend figuren ved den sorte linje



REGNEHISTORIER

Juletræer

LÆS

Bo og Tina skal sælge juletræer.

Bo har solgt 4 juletræer.

Tina har solgt 3 juletræer



Hvor mange juletræer har de solgt tilsammen

$$\square + \square = \square$$

juletræer

LÆS

De startede med 14 juletræer.

Hvor mange er der nu tilbage?

$$\square - \square = \square$$

juletræer




Brunkager

LÆS

Mille har bagt 10 brunkager.

Hendes far spiser to af kagerne, mens de er lune.

Sæt kryds over dem, faren spiser



Hvor mange brunkager er der nu tilbage?

$$\square - \square = \square$$

LÆS

Milles mor spiser 4 brunkager.

Hvor mange er der nu tilbage?

$$\square - \square = \square$$



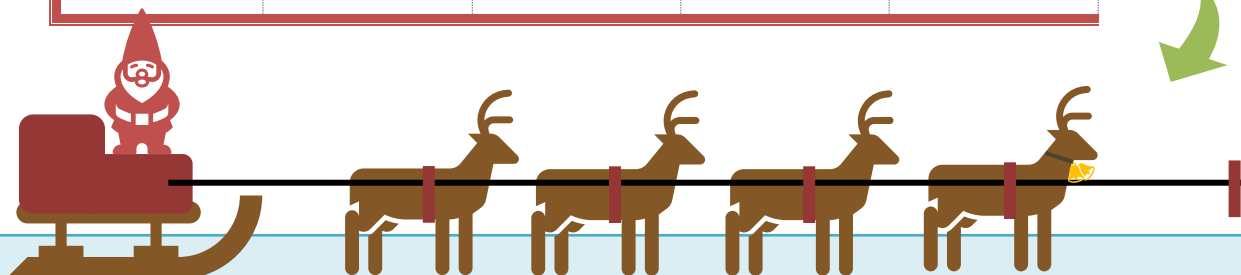
LIGE OG ULIGE

En af julemandens rensdyr er blevet væk. Hjælp den med at finde tilbage til de andre. Den må kun gå på felter, hvor resultatet giver et LIGE TAL.



START HER

$8-2$	$4+4$	$5+2$	$7-6$	$8+3$	$2+9$
$4+5$	$6-2$	$10-3$	$7+2$	$1+6$	$12-3$
$1+2$	$10+6$	$8-3$	$2+3$	$3+6$	$7-6$
$5-4$	$12-4$	$2+1$	$6+6$	$10-4$	$7+7$
$5+1$	$3+3$	$3+4$	$7+3$	$8-5$	$1+1$
$6-4$	$7-3$	$12-5$	$8-4$	$2+3$	$3+3$
$7-3$	$9+3$	$5+6$	$5+1$	$11+2$	$9-5$
$6-3$	$4+8$	$2+2$	$1+3$	$9-2$	$11+3$



PENGE

Simon er ude at købe julegaver. Hvad køber han til hvem? Sæt en streg mellem beløb og gave.




LILLESØSTER




MOR



FAR



STOREBROR



VÆGT

Hjælp julemanden med at veje pakkerne, så han kan pakke kanen ordentligt.



1 kilo



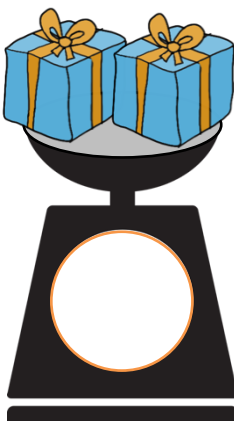


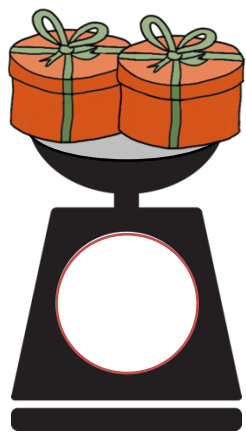

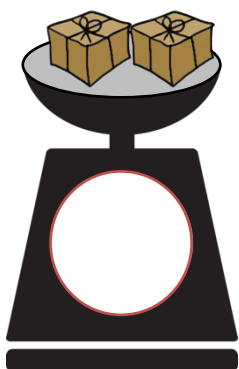
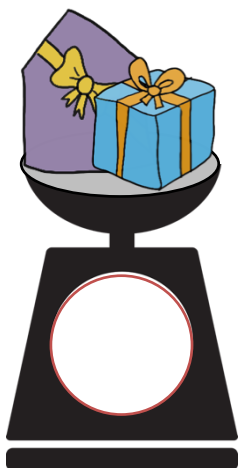


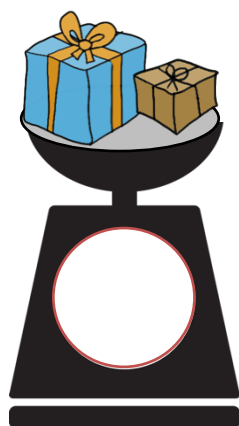
3 kilo



5 kilo






7 kilo



MØNSTER

Legetøjsmaskinen sorterer gaverne i mønstre. Færdiggør mønstrene på pakkebåndene.



PRIK TIL PRIK

Følg tallene rundt. Der er fire forskellige ruter, som skal laves hver for sig. De grønne tal hører til de grønne prikker osv.

